

必修與選修部分中英文版
已列入適用書目表



連續 17 年全港最多學校採用*

*資料來源：2009-2025 年全港 400 多間中學的書單

新高中

經濟學探索

重印兼訂正

第三版

New Senior Secondary

Exploring
Economics

Third
Edition

Reprinted with minor amendments

權威經典

緊貼考評新動向

配合 2025 年課程更新及評估指引(中四至中六)

加強
應試配套

全新
電子資源

配合
課程更新

鞏固
理論基礎

優化
課文內容

專業作者團隊：

林本利博士
黃遠志先生
區文顯先生





課文全面配合課程更新

為配合 2025 年經濟科課程更新，聯合培進正式推出《新高中經濟學探索 (第三版重印兼訂正)》[△]。本版延續原教材的優勢，並緊貼教育局最新課程指引進行修訂，協助師生輕鬆掌握考試動向。


必修部分

■ 微觀經濟學 Microeconomics
■ 宏觀經濟學 Macroeconomics

中文版



英文版



選修部分

中文版



英文版



主要課題	修訂內容重點	相關課次
I. 宏觀經濟問題和政策	學生需要掌握： ✓ 自然失業率 (包含摩擦性失業和結構性失業) 及周期性失業的意思	第 5 冊 第 3 章
J. 國際貿易和金融	學生需要掌握： ✓ 國際收支平衡表的組成部分：經常帳戶、資本帳戶、金融帳戶 ✓ 一宗指定的交易會否及如何影響資本帳戶及／或金融帳戶 [註：政府統計處已在 2023 年宣布把資本及金融帳戶分開，與編製國際收支平衡表的國際慣例一致。] ✓ 國際收支盈餘及赤字的意思及其與外匯及官方儲備的關係 學生無須學習： ✗ 貸方和借方 ✗ 會計國際收支差額	第 6 冊 第 14 章

*最新修訂內容只適用於第 4 至第 7 冊

主要課題	修訂內容重點	相關課次
壟斷定價	學生需要： ✓ 以圖表展示邊際成本曲線和平均成本曲線的關係 ✓ 以圖表展示壟斷利潤 ✓ 解釋壟斷可能為社會帶來的益處 學生無須學習： ✗ 不同種類的價格分歧	第 4 冊 第 19 章
經濟增長及發展	學生需要： ✓ 明白購買力平價的意思及其在進行國際及地區比較時的用途	第 7 冊 第 16 章

*最新修訂內容只適用於第 4 至第 7 冊
△ 第 7 冊為第二版重印兼訂正 (2026)

A. Types of unemployment

1. Frictional unemployment

Frictional unemployment¹ refers to unemployment caused by the normal process of workers transitioning between jobs.

This is **voluntary unemployment**.

Cause: Frictional unemployment exists because it takes time for workers to search for jobs that best suit their preferences and skills. Some workers leave their jobs voluntarily over the short term to search for new jobs.

2. Structural unemployment

Structural unemployment² refers to long-term unemployment caused by the mismatch between unemployed persons and job vacancies that results from structural changes in an economy.

This is considered a form of **involuntary unemployment**³, as affected workers are willing to work but lack the qualifications or opportunities to do so.

Cause: When an economy undergoes structural changes, some industries decline while some others grow. For example, in the 1980s, the manufacturing industry declined and the financial industry prospered in Hong Kong. The demand for workers also changes as a result. If the displaced workers and new job openings do not align in terms of the required skills, age or location, structural unemployment results.

3. Cyclical unemployment

Cyclical unemployment⁴ is unemployment caused by economic fluctuations in the business cycle.

▲ 新增各種失業類型的詳細解說 (第 5 冊頁 204)

C Overall balance of payments

1. Meaning

Overall balance of payments¹ is an economy's balance of transactions with the rest of the world during a specified period, **excluding the transactions of the central bank** (i.e., change in reserve assets).

$$\text{Overall BoP} = \text{Current account balance} + \text{Capital account balance} - \text{Change in financial non-reserve assets}$$

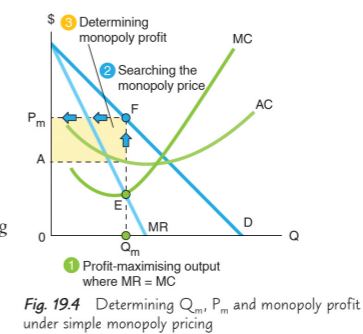
Overall BoP may **NOT** be balanced.

▲ 修訂整體國際收支差額的定義 (第 6 冊頁 224)

Graphical illustration

Refer to Fig. 19.4.

- When the MR curve intersects the MC curve at Point E, the corresponding output will be the profit-maximising output (Q_m).
- At Q_m , the monopolist will search for the price on the demand curve (i.e., Point F). At Point F, the corresponding price is the monopoly price (P_m).
- At Q_m , the average cost is OA. The monopoly profit can be shown as yellow area $[(P - AC) \times Q_m]$.



▲ 加入相關圖表展示壟斷利潤 (第 4 冊頁 9)

In conclusion,

$$\text{PPP exchange rate of Currency A against Currency B} = \frac{\text{Price of a basket of goods in Currency B}}{\text{Price of the same basket of goods in Currency A}}$$

If the market exchange rate of Currency A is larger (smaller) than its PPP exchange rate, Currency A is overvalued (undervalued).

▲ 新增購買力平價匯率的計算 (第 7 冊頁 81)

全方位優化 提升應試實力

更新至近年數據

課本內容緊貼時事，讓學生瞭解近年香港各項經濟表現，如本地的進出口貿易發展及國際收支差額的變化等。

《新高中經濟學探索（第三版）》

	總值(億港元)
進口	43,570
本地出口	435
轉口	38,324
出口總值	38,759

▲ 2017年香港的貨品貿易總值(原文)

《新高中經濟學探索（第三版重印兼訂正）》

	總值(億港元)
進口	49,275
本地出口	626
轉口	44,690
出口總值	45,316

▲ 2022年香港的貨品貿易總值(修訂)

年份	經常帳差額 (百萬港元)	非儲備性質的 金融資產 (百萬港元)	淨誤差及遺漏 (百萬港元)	整體的國際收支 (儲備資產變動淨值) (百萬港元)
2008	255,808	-28,774	-3,058	223,976
2009	164,001	470,987	-22,490	612,498
2010	124,369	-25,257	-39,967	59,145
2011	107,513	-24,437	3,707	86,783
2012	32,151	122,658	34,080	188,889
2013	32,475	-26,810	52,225	57,890
2014	31,453	66,052	41,584	139,089
2015	79,553	153,570	48,873	281,996
2016	98,684	-91,874	2,066	8,856
2017	114,946	96,111	39,452	250,509

▲ 2008至2017年間香港的國際收支差額(原文)

年份	經常帳差額 (百萬港元)	資本帳差額 (百萬港元)	非儲備 金融資產* (百萬港元)	淨誤差及遺漏 (百萬港元)	整體的國際收支 (儲備資產變動淨值) (百萬港元)
2010	124,369	-4,436	25,257	-35,530	59,145
2011	107,513	-2,021	24,437	5,729	86,783
2012	32,151	-1,433	-122,658	35,513	188,889
2013	32,475	-1,609	26,810	53,833	57,890
2014	31,453	-748	-66,052	42,332	139,089
2015	79,553	-216	-153,570	49,089	281,996
2016	98,685	-374	91,874	2,619	8,856
2017	121,840	-645	-174,666	-45,353	250,509
2018	105,942	-1,574	165,948	69,139	7,559
2019	166,482	-682	245,612	70,957	-8,855
2020	187,012	-90	-19,211	56,918	263,050
2021	339,429	-10,363	372,371	34,164	-9,142
2022	286,089	1,231	644,042	-10,489	-367,212

▲ 2010至2022年間香港的國際收支差額(修訂)

更新課堂練習

按課程修訂更新課堂練習，以配合最新考評要求。

《新高中經濟學探索（第三版）》

14.13 以下是一虛構的國際收支平衡表。填寫空格以找出市場國際收支差額和會計國際收支差額。(表中的●至●顯示計算答案的步驟。)

	差額(以百萬港元計)
經常帳	
1. 貨物	-500
2. 服務	600
3. 收益	400
4. 經常轉移	-150
經常帳差額	●
資本及金融帳	
1. 非儲備性質的金融資產	200
2. 儲備資產	●
資本及金融帳差額	●
市場國際收支差額	●
會計國際收支差額	●

▲ 市場國際收支差額和會計國際收支差額(原文)

《新高中經濟學探索（第三版重印兼訂正）》

14.13 以下是一虛構的國際收支平衡表。填寫空格以找出整體的國際收支差額。(表中的●至●顯示計算答案的步驟。)

	差額(以百萬港元計)
經常帳	
1. 貨物	-500
2. 服務	600
3. 收益	400
4. 經常轉移	-150
經常帳差額	●
資本帳差額	10
金融帳	
1. 非儲備性質的金融資產	-200
2. 儲備資產的變動	●
整體的國際收支差額	●

▲ 整體的國際收支差額(修訂)

精簡課文內容

按最新課程指引精簡部分內容，助學生專注理解關鍵知識。

聚焦考核內容

《新高中經濟學探索（第三版）》

	貸方(收取)(+)	借方(支付)(-)
在 14.3B1 節討論	1. 經常帳 ¹	
	貨品出口	\$100
	服務輸出	\$200
	從外地收取的收益	\$300
	從外地送來的經常轉移 ²	\$400
小計	\$1,000	
在 14.3B2 節討論	2. 資本及金融帳 ³	
	來自外地的資本流入	\$500
	向外地的資本流出	\$600
儲備資產的增加	\$100	
小計	\$500	\$700
在 14.3C 節討論	總收入	\$1,500
	總支出	\$1,500

表 14.5 某經濟體系某年的國際收支平衡表

▲ 國際收支平衡表的組成部分(原文)

《新高中經濟學探索（第三版重印兼訂正）》

在 14.3B1 節討論	經常帳 ¹
	貨品
	服務
在 14.3B2 節討論	收益
	經常轉移 ²
在 14.3C 節討論	資本帳 ³
	金融帳 ⁴
	非儲備金融資產
	儲備資產的變動
	整體的國際收支差額

表 14.5 某經濟體系某年的國際收支平衡表

▲ 國際收支平衡表的組成部分(修訂)

另一方法：

要找出 X 的數值，我們可先決定題目各項目屬貸方抑或借方。

- 貸方：外幣流入及儲備資產減少
- 借方：外幣流出及儲備資產增加

為方便計算，你可編製國際收支平衡表，並把 X 放在貸方。

	貸方	借方
有形貿易	X	
無形貿易		60
資本	40	20
儲備資產的變動	50	
總額	90 + X	80

由於會計國際收支差額總是平衡的，所以
 $90 + X = 80 \Rightarrow X = -10$

▲ 國際收支差額示例題(原文)

題目分析及參考答案.....

a. 儲備資產減少意味整體的國際收支差額是負數(=-50十億元)。因此，
 $X + (-60) + 40 - 20 = -50$
 $\Rightarrow X - 40 = -50$
 $\Rightarrow X = -10$

b. 當儲備資產增加時，代表出現外幣淨流入，因此該經濟體系出現國際收支盈餘。相反，當儲備資產減少時，代表出現外幣淨流出，因此該經濟體系出現國際收支赤字。由於整體的國際收支差額是-50十億元，因此該經濟體系出現國際收支赤字。

▲ 國際收支差額示例題(修訂)

強化國家安全學習元素

為配合教育局就經濟科而訂的「國家安全教育課程框架(2025)」，本書將經濟安全和金融安全等國安學習元素融入本科的教學內容中，包括金管局在維護金融及國家安全的角色，以及中美貿易衝突對國家經濟安全的影響。

經濟與生活 8.2 金管局在維護國家安全上的角色

金管局作為金融監管機構，負責監督和規管接受存款機構。它要求銀行有充足的資本和流動性，以避免任何威脅銀行體系穩定的衝擊。

金管局經常迅速駁斥那些意圖削弱公眾對香港銀行體系信心的惡意謠言，亦會與警方合作，打擊數碼詐騙、網上陷阱和洗黑錢活動等各類罪案，以確保金融、銀行和貨幣領域的安全和穩定。以上種種措施皆有助維護經濟安全，以至維護國家安全。

▲ 金管局在維護國家安全上的角色

經濟與生活 13.3 中美貿易戰對香港的影響

在2018年4月，美國政府宣布對中國發動貿易戰。截至2018年9月，美國對價值2,500億美元的中國產品徵收10%至25%的關稅。中國政府也對美國商品徵收5%至25%的關稅作為反擊，涉及產品價值1,100億美元。美國政府警告，如果中國採取報復措施，它將進一步擴大貿易戰的規模。

香港政府財政司司長陳茂波表示，貿易戰對香港的影響仍在「可控制範圍內」，因為內地經香港對美國的出口僅佔香港出口總值的3.5%。政府估計貿易戰對2018和2019年香港本地生產總值的影響「微不足道」。不過，陳茂波指貿易戰或會影響香港對港的信心，香港政府已準備向香港的廠商提供資金支援，並協助他們開拓新市場。

圖 13.11 香港政府官員與港商會商。

▲ 中美貿易戰對香港的影響

新增國安工作紙

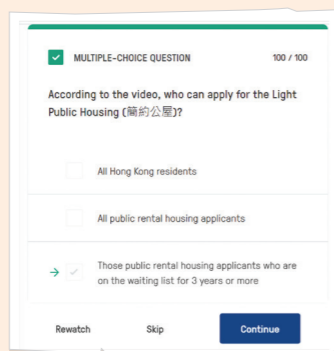
配合「國際貿易和金融」課題的國家安全教育工作紙

▲ 配合「國際貿易和金融」課題的國家安全教育工作紙



全新電子資源 支援教與學需要

課前預習 課前影片工作紙 Pre-class Video Worksheet 全新



edpuzzle Google FORMS MS Forms

- 四大好處：**
- ✓ 無須登入
 - ✓ 操作簡易
 - ✓ 自動批改
 - ✓ 提供學生表現分析報告

中文版樣本



英文版樣本




▲ 透過課前預習平台 Edpuzzle，學生可在觀看影片時作答相應題目，為學習新課題做好準備。

課堂學習 電子課本 eBooks Plus 全新

備有課堂管理功能，老師可鎖定及控制學生電子課本的書頁，管理學生在課堂上的使用狀況。

同時提供課本 PDF 和支援 Goodnotes



- 設有各種快捷工具，包括：
- 製作筆記
 - 記事/插圖功能
 - 開啟網頁
 - 支援 Apple Pencil 書寫

設雙視窗，可同步顯示中英文版書頁

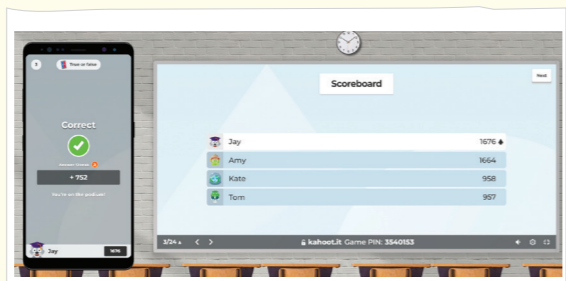
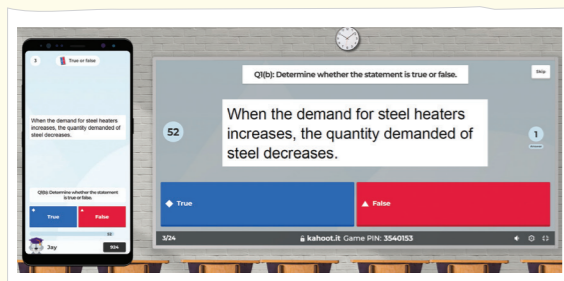
支援網頁、iOS 和 Android 作業系統，大大提升使用上的彈性。

立即體驗



課堂對戰 Class Combat Kahoot! 全新

幫助學生釐清概念



中文版樣本



英文版樣本



▲ 將學生容易混淆的概念設計成 Kahoot! 互動問答遊戲，提升學習趣味。



加碼應試資源 突破應試瓶頸

課後評估及操練

應試錦囊加強版 Exam Kit Plus 全新

加強應試能力

參考 DSE 試題新增近 400 條全新題目，根據最新考試趨勢設計，涵蓋選擇題和問答題。

II. 考試模式題目

選擇題

1. 下列哪些情況意味着稀少性的存在？
- (1) 某精品店透過清貨大減價，成功將存貨出售。
 - (2) 儘管天氣極其炎熱，鑒於環保原因，黃先生選擇在家中不開空調。
 - (3) 志達通宵溫習，希望在即將來臨的考試獲得優異成績。
- A. 只有(1)、(2)
B. 只有(1)、(3)
C. 只有(2)、(3)
D. (1)、(2)及(3)

參考：HKDSE 2024，卷一，題 2

答案

選擇題

1. D 選項(1)：人們願意支付價格以獲得精品店所銷售的物品。
選項(2)：黃先生願意為減少污染付出成本。
選項(3)：志達願意為獲得好的考試成績付出成本。
2. C 選項 C：為繼續使用自己的汽車，楊先生須要支付\$30,000的維修費（顯性成本）。維修後，他放棄了以\$50,000出售汽車的機會（隱合成本）。
3. B 選項(2)：當人息稅率下調時，他所放棄的選項（即從事法律工作）的價值會增加。因此，進修法律研究的成本會增加。
選項(3)：這可以減低他的金錢成本。
4. B 選項 B：它只會影響所選擇的選項（空置單位）的價值，而不會影響所放棄選項的價值。
5. C 選項 C：凱琳或會因出席演唱會而導致與父母的關係惡化，這是一種成本。

▲ 標示參考的 DSE 題號

▲ 提供選擇題詳細題解

中文版樣本



英文版樣本



強化計算訓練 Calculation Drilling 全新

全新設計、針對計算題的重點式操練工作紙。將題目拆細為不同階段，由淺入深，提升自學效能。

Word Google FORMS MS Forms

Economics in Action 2
Calculation drilling

Chapter 14 Government intervention (II): Unit tax and unit subsidy

A. Unit tax

Stage 1: Find the new supply schedule after tax

(a) Suppose the government imposes a unit tax of \$2.

Unit price (\$)	1	2	3	4	5
Quantity demanded (units)	40	35	30	25	20
Quantity supplied (units)	30	35	40	45	50

(b) Suppose the government imposes a unit tax of \$3.

Unit price (\$)	10	11	12	13	14
Quantity demanded (units)	110	100	90	80	70
Quantity supplied (units)	70	80	90	100	110

(c) Suppose the government imposes a unit tax of \$2.

Unit price (\$)	2	4	6	8	10
Quantity demanded (units)	26	25	24	24	23
Quantity supplied (units)	20	22	24	26	28

Stage 2

Stage 2: Find the price and quantity transacted before and after tax

(a) Suppose the government imposes a unit tax of \$2.

Unit price (\$)	1	2	3	4	5	6
Quantity demanded (units)	50	45	40	35	30	25
Quantity supplied (units)	40	45	50	55	60	65

Before tax: Market price = \$ _____; Quantity transacted = _____ units
After tax: Market price = \$ _____; Quantity transacted = _____ units

(b) Suppose the government imposes a unit tax of \$4.

Unit price (\$)	10	11	12	13	14	15	16
Quantity demanded (units)	130	120	110	100	90	80	70
Quantity supplied (units)	90	100	110	120	130	140	150

Before tax: Market price = \$ _____; Quantity transacted = _____ units
After tax: Market price = \$ _____; Quantity transacted = _____ units

(c) Suppose the government imposes a unit tax of \$6.

Unit price (\$)	2	4	6	8	10	12	14
Quantity demanded (units)	14	13	12	11	10	9	8
Quantity supplied (units)	8	10	12	14	16	18	20

Before tax: Market price = \$ _____; Quantity transacted = _____ units
After tax: Market price = \$ _____; Quantity transacted = _____ units

重點式操練，提升自學效能

▲ 將計算題拆細為不同階段，由淺入深，逐步鞏固概念。

中文版樣本



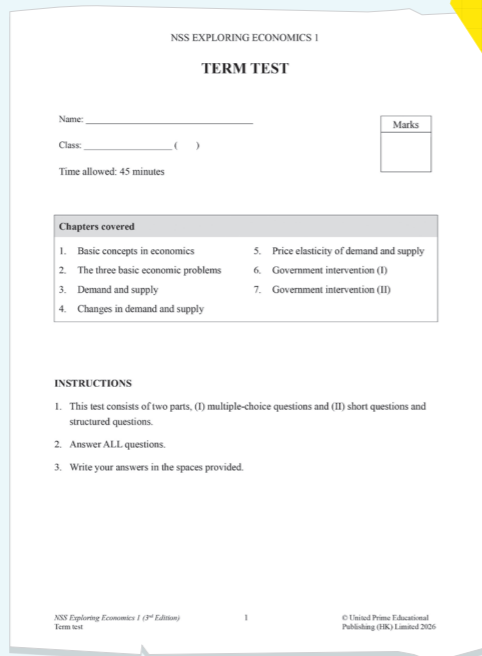
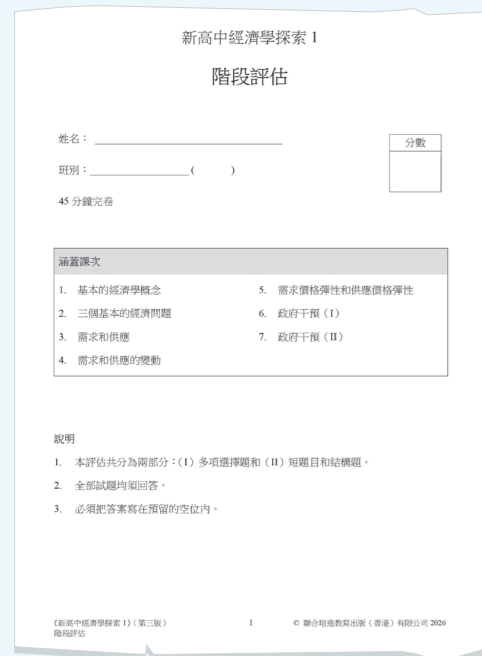
英文版樣本



加碼應試資源 突破應試瓶頸

課後評估及操練

階段評估 Term Test 全新



定期評估學習進度
緊貼教學需要



▲ 按不同學習階段提供多份「階段評估」，評估學生對經濟學概念的理解。

資料回應題 DRQ 持續更新

《新高中經濟學探索》(第三版)
程度 4: DRQ 模擬試題

Q38 美國新一輪關稅

冊次	課次	相關概念
第 5 冊	第 5 課	總需求和總供應的變動
	第 12 課	比較優勢原理
第 6 冊	第 13 課	關稅
	第 14 課	貨幣貶值對進出口的影響
	第 14 課	國際收支平衡表

總分: 30 分
建議時間: 45 分鐘

美國總統特明宣佈對進口食品全面徵收關稅，以減少該國的貿易赤字。

資料 A: 美國向進口食品全面徵收關稅
美國宣佈向大部分進口食品徵收 10% 關稅。如果某些國家未能在限期內與美國達成貿易協議，可能會面臨更高關稅。

資料 B: 美國的食品及服務貿易差額

資料來源: 美國商務部經濟分析局

以大量
真實個案
為題材，切合
公開試需要

▲ 參考公開試 DRQ 試題，提供更多元化的資料及題目，進一步幫助學生掌握資料分析的技巧。

時事應用題 持續更新 Current Issue Questions

《新高中經濟學探索》(第三版)
時事應用題

每個課題均
設有全新題目

Q16 日圓匯率跌至 20 年新低

各國開始收緊貨幣政策，而日本仍維持超寬鬆貨幣政策，導致資金流出日本，令日圓兌主要貨幣貶值。日圓疲弱，增加日本的進口成本，導致日本出現通脹。

問題

- 假設一名投資者向一家日本銀行借款 5 百萬日圓，他正考慮如何運用該筆款項。他有數個選項，其優先次序如下：

第一選項	購買一家日本公司的股票
第二選項	購買美國政府債券
第三選項	存入儲蓄戶口

 假設美國政府債券的利率上升。
 - 解釋他購買日本公司股票的機會成本會如何改變。(2 分)
 - 解釋在甚麼條件下，他會購買美國政府債券。(2 分)
- 日圓兌日本貿易夥伴的貨幣貶值。以圖輔助，解釋在甚麼條件下，日本進口總值(以日圓計算)會增加。(5 分)
- 假設鈴木先生從一家美國公司收取固定月薪(以日圓計算)。解釋在非預期通脹下，他會得益還是受損。(2 分)

▲ 精選熱門時事議題，輔以緊貼公開試考核模式的題目，從而訓練學生的應用和分析能力，將經濟學概念融會貫通至真實情境。

網頁版題目庫 Online Question Bank 全新

簡單三個步驟完成擬卷，快捷易用

1 題目搜尋

按科目架構、程度或題型等條件搜尋題目

選題記憶：
可篩選未曾用過的題目

2 預覽試卷
可修改每題分數

3 匯出試卷
一鍵匯出試卷及答案，
方便老師分享及存檔

▲ 新增試題參照近年 DSE 題型，更附有相應的公開試題題號，方便老師參考。

革新題庫·五大升級

- ✓ 題量突破 5,000+ 題
- ✓ 重新審視所有題目，按 DSE 趨勢更新
- ✓ 題型全面貼近 DSE
- ✓ 新增選擇題題解
- ✓ 提供相關 DSE 題目參考



加碼應試資源 突破應試瓶頸

課後評估及操練

AI 選題易 全新 AI 選題易 AI Question Picker



- ✓ 簡易選項配合對話式 AI 操作
- ✓ 無需複雜 prompt
- ✓ 即時換題與微調內容

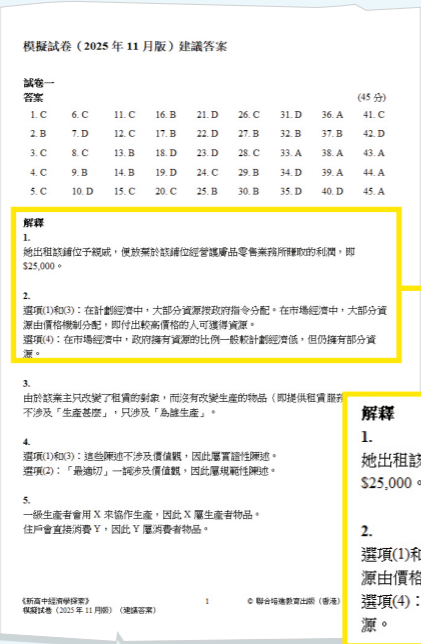
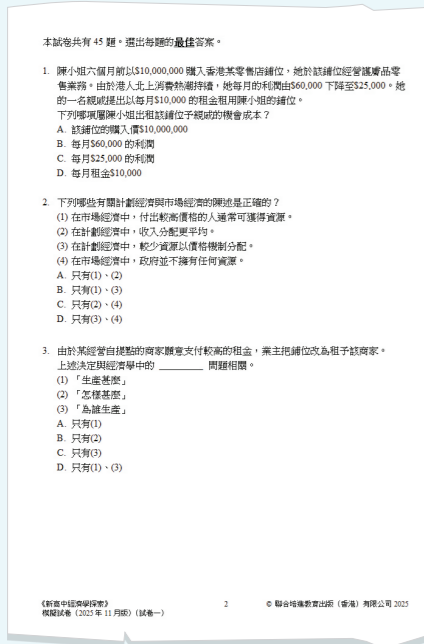


介紹影片



▲ 結合題量龐大的題目庫，只需輸入簡單指令，AI 選題易即可按老師要求智能挑選題目，大幅提升擬卷效率。

模擬試卷 持續更新 Mock Exam Papers



緊貼公開試題型，支援老師擬卷需要



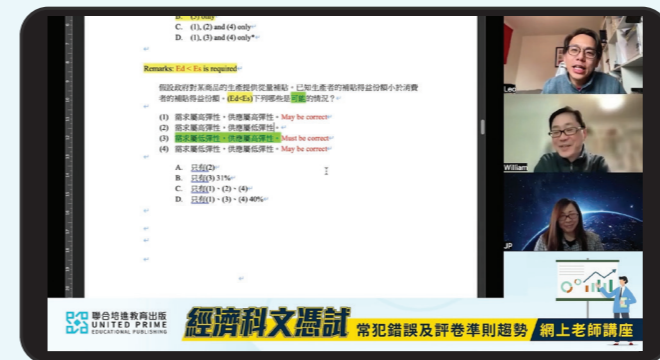
解釋

- 她出租該舖位於親戚，便放棄於該舖位經營護膚品零售業務所賺取的利潤，即 \$25,000。
- 選項(1)和(3)：在計劃經濟中，大部分資源按政府指令分配。在市場經濟中，大部分資源由價格機制分配，即付出較高價格的人可獲得資源。選項(4)：在市場經濟中，政府擁有資源的比例一般較計劃經濟低，但仍擁有部分資源。

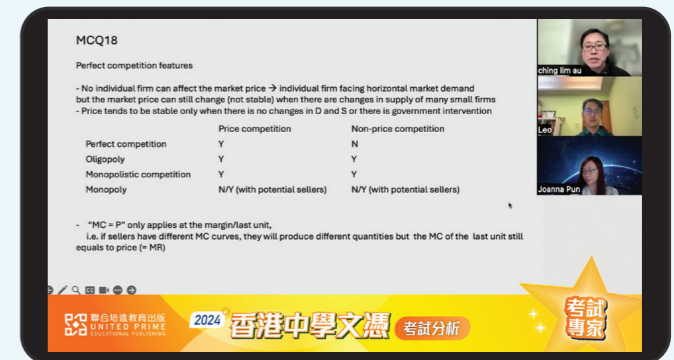
▲ 定期上載最新模擬試卷，分別適用於中四、中五及中六學生。另提供完整建議答案，多項選擇題答案更附解釋，有助提升學生答題能力。

中學文憑考試分析講座 DSE Analysis Webinar 持續更新

分析經濟科試題，拆解題目失分陷阱



考試專家分享考評和教學心得



▲ 定期邀請具豐富教學經驗的老師或教科書作者，拆解考試得分要點及分享實用教學心得。


模擬考試 Pre-mock Exam 叫好叫座

考試人數屢創新高




▲ 定期舉辦模擬考試，為考生提供專業及全面的考試體驗以備戰 DSE。

考生個人報告



全校成績報告







- ✓ 坐擁全港決定性市場佔有率的評測報告
- ✓ 極具代表性
- ✓ 分析詳盡





▲ 參加模擬考試的學校可在培進模擬考試網站上，查閱各考生成績及該校整體考生表現報告，提供詳細成績概覽、預測等級，以及按課題與試卷的分析表現。

資源一覽表




課前 Pre-class

- ✓ 課前預習 (附影片工作紙) Pre-class Learning (with Video Worksheet)
   **全新**
- ✓ 教學大綱 Teaching Plans
- ✓ 教學簡報 PowerPoint
- ✓ 練習答案 Answers to Exercises
- ✓ DSE 試題分析 DSE Analysis  **持續更新**











課堂 In-class

- ✓ 教師版電子課本 Teacher's eBook **全新**
- ✓ 學生版電子課本 Student's eBook **全新**
- ✓ 課本 Textbook  /  **全新**
- ✓ 課堂練習 In-class Exercises   **全新**
- ✓ 課堂對戰 Class Combat **Kahoot!** **全新**
- ✓ 國家安全教育工作紙 NSE Worksheets

課後 After-class

- ✓ 互動圖表 i-Graphs
- ✓ 課後 MCQ After-class MCQ   **全新**
- ✓ QR 碼一覽 QR Code List **全新**
- ✓ 鞏固工作紙 Consolidation Worksheets
- ✓ 溫習筆記 Revision Notes
- ✓ 應試小技巧 Exam Skills  **應試**
- ✓ 溫習手冊 (電子版) Online Study Guide

評估 Assessment

- ✓ 網頁版題目庫 (附 AI 選題易)  **AI 選題易**
Online Question Bank (with AI Question Picker) **全新**
- ✓ 應試錦囊加強版 Exam Kit Plus **全新**  **應試**
- ✓ 時事應用題 Current Issue Questions  **應試** **持續更新**
- ✓ 資料回應題 DRQ  **應試** **持續更新**
- ✓ 模擬試卷 Mock Exam Papers  **應試** **持續更新**
- ✓ 階段評估 Term Test **全新**  **應試**
- ✓ 強化計算訓練 Calculation Drilling    **全新**
- ✓ 模擬考試 Pre-mock Exam  **應試**

