

香港中學文憑 HKDSE


No. 1 培進經濟科教材  
連續 17 年全港最多學校採用\*

\*資料來源：2009-2025 學年全港 400 多間中學的書單

# 活用經濟學

## ECONOMICS

### in Action



# 皇牌教材 稱霸考場

教材介紹影片



電子派板網站



# 目錄

權威作者團隊精心打造  
直擊考評核心  
p.3

全方位資源  
配合教與學需要  
p.14 – p.24

成就  
考試佳績

課本精心設計  
緊貼考試要求  
p.4 – p.5

考試導向的  
課本設計  
p.8 – p.13

全面配合  
最新修訂課程  
p.6 – p.7

## 權威作者團隊精心打造 直擊考評核心



### 徐力航 Leo TSUI

- ★ 前評核發展經理
- ★ 超過 10 年文憑試設計經驗
- ★ 香港大學經濟學碩士、香港大學學位教師教育證書
- ★ 親自管理公開試，負責所有重要環節，包括擬題、審題、評卷、監察閱卷員評卷及撰寫考試報告，對試題設計及得分竅門瞭如指掌
- ★ 於官方講座中擔任講者，向老師講授文憑試課程檢討及公開試評核重點



### 潘勁勉 K.M. PUN

- ★ 前中學副校長及經濟科科主任
- ★ 30 多年任教中學經濟科的經驗，對公開試要求瞭如指掌
- ★ 香港大學社會科學學士、香港中文大學學位教師教育文憑、香港中文大學教育碩士
- ★ 於經濟科教師簡報會擔任客席講者長達 10 年



### 區政廉 William AU

- ★ 25 年任教中學經濟科的經驗，對公開試要求瞭如指掌
- ★ 曾任多個經濟科委員會的委員及主席
- ★ 於多個經濟科教育講座及簡報會擔任客席講者長達 15 年



# 課本精心設計 緊貼考試要求

## 課題一覽表

### 必修部分

#### 微觀經濟學

- |       |  |
|-------|--|
| 第 1 冊 | 1. 基本的經濟學概念<br>2. 三個基本經濟問題<br>3. 生產與分工<br>4. 生產要素<br>5. 短期和長期生產<br>6. 廠商的擁有權<br>7. 廠商的擴張<br>8. 市場與市場結構<br>9. 利潤極大化和產量的決定 |
| 第 2 冊 | 10. 需求與供應<br>11. 需求和供應的變動<br>12. 需求價格彈性和供應價格彈性<br>13. 政府干預 (I) : 價格和數量管制<br>14. 政府干預 (II) : 從量稅和從量補貼                     |
| 第 3 冊 | 15. 消費者盈餘、生產者盈餘、總社會盈餘和效率<br>16. 政府干預導致市場無效率<br>17. 界外影響<br>18. 公平與收入不均   |

#### 宏觀經濟學

- |       |  |
|-------|--|
| 第 4 冊 | 19. 經濟表現的量度 (I) : 本地生產總值與本地居民總收入<br>20. 經濟表現的量度 (II) : 國民收入統計數字和一般物價水平<br>21. 宏觀經濟問題<br>22. 總需求與總供應 (I) : 基本概念<br>23. 總需求與總供應 (II) : 產出水平的決定<br>24. 政府收入、開支和預算<br>25. 財政政策 |
| 第 5 冊 | 26. 貨幣與銀行<br>27. 貨幣供應和存款創造<br>28. 貨幣需求與貨幣市場均衡<br>29. 貨幣政策和貨幣數量論<br>30. 國際貿易與比較優勢原理<br>31. 貿易障礙和香港的對外貿易<br>32. 匯率與國際收支平衡  |

### Compulsory Part

#### Microeconomics

- |        |  |
|--------|--|
| Book 1 | 1. Basic concepts in economics<br>2. The three basic economic problems<br>3. Production and division of labour<br>4. Factors of production<br>5. Production in the short run and long run<br>6. Ownership of firms<br>7. Expansion of firms<br>8. Market and market structure<br>9. Profit maximisation and output determination |
| Book 2 | 10. Demand and supply<br>11. Change in demand and supply<br>12. Price elasticity of demand and supply<br>13. Government intervention (I): Price and quantity controls<br>14. Government intervention (II): Unit tax and unit subsidy   |
| Book 3 | 15. Consumer surplus, producer surplus, total social surplus and efficiency<br>16. Inefficiency caused by government intervention<br>17. Externality<br>18. Equity and income inequality   |

#### Macroeconomics

- |        |   |
|--------|---|
| Book 4 | 19. Measurement of economic performance (I) : GDP and GNI<br>20. Measurement of economic performance (II) : National income statistics and the general price level<br>21. Macroeconomic problems<br>22. Aggregate demand and aggregate supply (I): Basic concepts<br>23. Aggregate demand and aggregate supply (II): Determination of output level<br>24. Government revenue, expenditure and budget<br>25. Fiscal policy |
| Book 5 | 26. Money and banking<br>27. Money supply and deposit creation<br>28. Money demand and money market equilibrium<br>29. Monetary policies and quantity theory of money<br>30. International trade and principle of comparative advantage<br>31. Trade barriers and external trade of Hong Kong<br>32. Exchange rate and balance of payments  |

### 選修部分

- |        |                            |
|--------|----------------------------|
| 第 E1 冊 | 33. 壟斷定價<br>34. 反競爭行為和競爭政策 |
|--------|----------------------------|

- |        |                            |
|--------|----------------------------|
| 第 E2 冊 | 35. 貿易理論的延伸<br>36. 經濟增長與發展 |
|--------|----------------------------|


### Elective Part

- |         |  |
|---------|--|
| Book E1 | 33. Monopoly pricing<br>34. Anti-competitive behaviours and competition policy |
|---------|--|

- |         |  |
|---------|--|
| Book E2 | 35. Extension of trade theory<br>36. Economic growth and development |
|---------|--|



每冊均設獨立的  
試前速習筆記



活頁釘裝  
使用更靈活



# 全面配合最新修訂課程

《香港中學文憑 活用經濟學》HKDSE Economics in Action 全面配合「經濟課程及評估指引(2025年更新版)」，按修訂內容及學習重點精心編排課次與教學架構，並由淺入深解釋各概念之間的關係，讓學生能循序漸進掌握課程內容，助老師提升教學效能。



作者拆解  
課程修訂重點

## 必修部分

主要課題	修訂內容重點	相關課次
I. 宏觀經濟問題和政策	<b>學生需要掌握：</b> ✓ 自然失業率（包含摩擦性失業和結構性失業）及周期性失業的意思	第 4 冊第 21 章
J. 國際貿易和金融	<b>學生需要掌握：</b> ✓ 國際收支平衡表的組成部分：經常帳戶、資本帳戶、金融帳戶 ✓ 一宗指定的交易會否及如何影響資本帳戶及/或金融帳戶 [註：政府統計處已在 2023 年宣布把資本及金融帳戶分開，與編製國際收支平衡表的國際慣例一致。] ✓ 國際收支盈餘及赤字的意思及其與外匯及官方儲備的關係 <b>學生無須學習：</b> ✗ 貸方和借方 ✗ 會計國際收支差額	第 5 冊第 32 章

### 第 4 冊第 21 章

#### ④ 周期性失業

周期性失業<sup>3</sup>是指經濟周期波動所引致的失業。它會導致實際失業率高於或低於自然失業率，兩者的關係如下：

$$\text{實際失業率} = \text{自然失業率} + \text{周期性失業率}$$

$$\text{自然失業率} = \text{摩擦性失業率} + \text{結構性失業率}$$

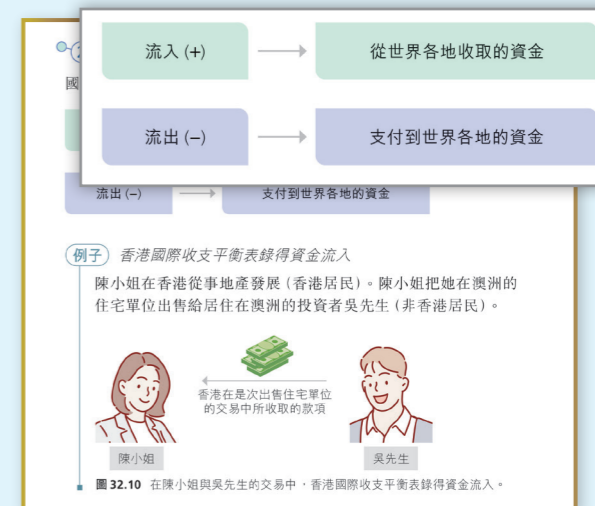
下表總結經濟周期的波動如何影響周期性失業率。

經濟周期	對勞工需求的影响	對周期性失業率的影响
衰退	勞工需求 ↓	周期性失業率 ↑
復甦	勞工需求 ↑	周期性失業率 ↓
高峰	勞工需求大	實際失業率低，甚至可能低於自然失業率。 → 周期性失業率可能是負數。
低谷	勞工需求小	實際失業率高，且高於自然失業率。 → 周期性失業率是正數。

表 21.16 經濟周期的波動如何影響周期性失業率

▲ 各種失業類型的詳細解說

### 第 5 冊第 32 章



▲ 以國際資金流入/流出代替貸方/借方

## 選修部分

主要課題	修訂內容重點	相關課次
壟斷定價	<b>學生需要：</b> ✓ 以圖表展示邊際成本曲線和平均成本曲線的關係 ✓ 以圖表展示壟斷利潤 ✓ 解釋壟斷可能為社會帶來的益處 <b>學生無須學習：</b> ✗ 不同種類的價格分歧	第 E1 冊第 33 章
經濟增長及發展	<b>學生需要：</b> ✓ 明白購買力平價的意思及其在進行國際及地區比較時的用途	第 E2 冊第 36 章

### 第 E1 冊第 33 章

#### Step 3: Find the AC at the profit-maximising output

Refer to Fig. 33.16. At the profit-maximising output ( $Q_m$ ), average cost is  $AC_m$  (follow the purple arrow).

#### Step 4: Find the monopoly profit

In Fig. 33.16,

- $(P_m - AC_m)$  is the average profit per unit;
- $Q_m$  is the profit-maximising output / quantity sold.

Profit can be illustrated by Area  $AC_mP_mGH$  [ $= (P_m - AC_m) \times Q_m$ ].

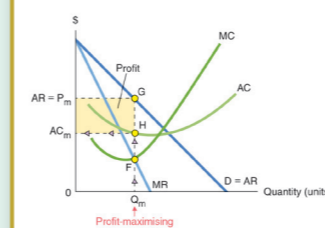


Fig. 33.16 Monopoly profit

▲ 以圖表展示壟斷利潤

### 第 E2 冊第 36 章

#### a. 購買力平價匯率

購買力平價匯率<sup>1</sup>是指一種貨幣兌換成另一種貨幣（通常是美元）時，讓同一筆金額可以在兩個經濟購買同一籃子的物品和服務所須要的匯率。這能夠消除不同經濟之間的物價水平差異。

購買力平價匯率的計算方式如下：

$$\text{購買力平價匯率} = \frac{\text{以貨幣 A 標示的一籃子物品和服務的價格 (貨幣 A 兌換幣 B)}}{\text{以貨幣 B 標示同一籃子物品和服務的價格}}$$

#### 例子 以巨無霸價格估算購買力平價匯率

《經濟學人》以巨無霸價格來估算不同貨幣的購買力平價匯率（將各貨幣兌換成一美元），因為巨無霸是一款在全球銷售的標準產品。

下表顯示截至 2025 年 1 月，巨無霸在不同經濟的售價：

經濟	一個巨無霸的當地貨幣售價
美國	5.79 美元
英國	4.59 英鎊
日本	480 日元
中國	25.5 人民幣
中國香港	24 港元

表 36.2 2025 年 1 月以當地貨幣計算的巨無霸售價

資料來源：《經濟學人》

根據表 36.2，以不同貨幣（如港元）計算的美元購買力平價匯率可計算如下：

$$1 \text{ 美元} = (24 \div 5.79) \text{ 港元} = 4.15 \text{ 港元}$$

根據可購買的巨無霸計算，1 美元的購買力相當於 4.15 港元。

▲ 詳細解釋購買力平價匯率的計算

# 考試導向的課本設計

## 課本設計及排版對準學生需要

教材設計貼合學生的實際需要，內容精簡扼要、重點明確。全書版面結構清晰，並善用圖表闡釋抽象概念，真正做到易教、易學、易掌握。

**以數字與色框清楚 連繫圖表與文字**

**活用經濟學**

**B 辨識絕對優勢**

以下展示如何以不同數據辨識絕對優勢：

**1 根據產量數據**

表 30.1 顯示 A 國和 B 國使用 1 單位資源可生產的汽車或食物的數量：

	汽車 (單位)	或	食物 (單位)
A 國	5	或	10
B 國	4	或	20

表 30.1 A 國和 B 國每單位資源的產量

根據表 30.1，在資源數量相同 (1 單位) 的情況下，

① 相比 B 國 (4 單位)，A 國可生產較多汽車 (5 單位)，所以 A 國生產汽車有絕對優勢；

② 相比 A 國 (10 單位)，B 國可生產較多食物 (20 單位)，所以 B 國生產食物有絕對優勢。

● 相反，  
● A 國生產食物有絕對優勢；  
● B 國生產汽車有絕對優勢。

**經濟概念圖像化**

As a result, the total revenue that producers actually receive (total revenue including subsidy) is greater than the total expenditure of consumers.

Fig. 14.24

▲ 內容精簡扼要，化字為圖，更易理解

**以數字標記曲線移動次序，並結合課文解說。**

**23 總需求與總供應 (II) - 產出水平的決定**

**2 短期總供應減少**

**a. 短期影響**

① 如圖 23.25 所示，當短期總供應減少，短期總供應曲線從  $SRAS_0$  左移至  $SRAS_1$ 。

② 短期均衡點從  $E_0$  移至  $E_1$ ，物價水平從  $P_0$  上升至  $P_1$ ，產出水平從  $Y_0$  下降至  $Y_1$ 。

③ 出現通縮 (產出) 差距 ( $Y_0 - Y_1$ )。

**b. 長期影響**

④ 如圖 23.26 所示，市場出現通縮 (產出) 差距。在長期，由於有市場調節機制，短期總供應會增加。短期總供應曲線從  $SRAS_1$  右移至  $SRAS_0$ 。

⑤ 經濟在  $E_0$  再次達至長期均衡。

⑥ 物價水平從  $P_1$  回落至  $P_0$ ，產出水平也回復至充分就業產出水平。通縮 (產出) 差距消除。

**短期影響：(1)、(2) 和 (3)**

短期總供應曲線向左移 (從  $SRAS_0$  到  $SRAS_1$ )。

均衡點變動 (從  $E_0$  到  $E_1$ )。

物價水平 ↑；產出水平 ↓；出現通縮 (產出) 差距

**長期影響：(4)、(5) 和 (6)**

短期總供應曲線向右移 (從  $SRAS_1$  到  $SRAS_0$ )。

均衡點變動 (從  $E_1$  到  $E_0$ )。

物價水平 ↓；產出水平 ↑ 至  $Y_0$ ；通縮 (產出) 差距消除

**29 貨幣政策與貨幣數量**

**2 緊縮性貨幣政策**

緊縮性貨幣政策是指中央銀行透過減少貨幣供應，以減少總需求的政策。

緊縮性貨幣政策會令貨幣供應減少，導致利率上升。這會減少私人消費開支和投資開支，總需求因而減少。結果，總產出和物價水平均會下降。

**活用流程圖**

貨幣供應 ↓ → 利率 ↑ → 私人消費開支及投資開支 ↓ → 總需求 ↓ → 物價水平 ↓ 及 總產出 ↓

**下表總結擴張性和緊縮性貨幣政策的影響。**

貨幣政策	貨幣供應	利率	私人消費及投資開支	總需求	物價水平	總產出
擴張性	↑	↓	↑	↑	↑	↑
緊縮性	↓	↑	↓	↓	↓	↓

**以圖表整理重點，適合考前速習。**

▲ 精心排版，將相關圖文整合在一頁內，方便閱讀

## 課本四類欄目，對準考評需要

本教材以生活化情境作為起點，讓學生從貼近日常的例子理解經濟概念，再透過應試欄目加強分析能力、了解公開試要求與掌握作答技巧，形成從理解、應用到應試的完整學習循環。

**獨家應試系統，拆解答題關鍵，直取高分！**

應試攻略 Exam Tips

例題拆解 Guided Example

公開試題 Public Exam

**▲ 提醒你 ▲ Watch Out**

**連結現實世界，提升學科分析力！**

生活實例 Living Case

想一想 Think Ahead

延伸活動 Extended Activities

**應試皇牌**

**鞏固與評估**

**生活應用**

**興趣與增潤**

**層層遞進，紮實根基，確保知識零死角！**

課文重點 Key points

小測試 Quiz

試前速習筆記 Last minute booster

考試模式題目 Exam-type Questions

**擴闊視野，照顧不同學習需要！**

進階學堂 Go Further

國情 360 China 360

你知道嗎？Do You Know?

## 內容重點及用字緊貼考試趨勢

全書以「考試導向」為核心理念，用字、用語及內容鋪排均緊貼公開試評核標準。書中同時清晰標示獲取分數的核心字眼與常見失分位，兼顧課程修訂與公開試的雙重要求。

**清晰標示考核重點，讓學生加倍留意。**

**答題得分字眼**

**以生活例子闡釋經濟概念**

**例子 Examples**

**Public goods**

Public goods are goods that are non-rival in consumption and non-excludable in consumption.

**a. Non-rival in consumption**

Non-rival in consumption means that a good can be consumed by many individuals concurrently. A person's consumption of the good will not reduce the amount available to others.

**b. Non-excludable in consumption**

Non-excludable in consumption means that it is costly to exclude or prevent others from consuming a good.

**小測試 Quiz**

27.2 下列各情況對香港三種定義的貨幣供應有甚麼即時影響？(以「+」表示增加、「-」表示減少、「○」表示不變)

	M1	M2	M3
(a) 愛敏把 \$2,000 現金存入一家接受存款公司的定期存款帳戶。			
(b) 伍南從他在持牌銀行的往來帳戶轉帳 \$1,200 至儲蓄帳戶。			
(c) 寶利從他的儲蓄帳戶提取 \$4,500，然後把一半金額存作活期存款，另一半以現金持有。			
(d) 傑威從海外收到 \$5,000 後，把一半金額存入他的儲蓄帳戶，其餘則存入一家有限制牌照銀行。			

**公開試題 Public Exam**

HKDSE 2023 - 卷一 - 第 33 題

露露從一間香港的持牌銀行提取港幣 \$600,000 儲蓄存款。她把三分之一金額存入她的往來帳戶，並把餘額匯往海外。上述行動對港元貨幣供應量有甚麼即時影響？

(1) 貨幣供應定義一上升港幣 \$200,000。  
(2) 貨幣供應定義二下降港幣 \$600,000。  
(3) 貨幣供應定義三下降港幣 \$400,000。

A. 只有 (1)、(2)  
B. 只有 (1)、(3)  
C. 只有 (2)、(3)  
D. (1)、(2) 及 (3)

▲ 每節課文均設有按公開試內容撰寫的小測試，考核學生對課文重點的掌握

▲ 另外亦提供相關公開試題，讓學生更了解公開試的出題方式

# 考試導向的課本設計

## 實用應試資訊，掌握得分關鍵

本書由熟悉考評重點和試題趨勢的作者團隊編撰，結合本社多年舉辦模擬考試所得的數據，精準點出學生常犯錯誤和考試失分陷阱。

### 掌握得分關鍵

#### 應試攻略 Exam Tips

按除稅及福利轉移後住戶收入計算的洛倫茨曲線和基尼系數

在 18.2 節中，你已學會如何根據按原本住戶收入編製的洛倫茨曲線和基尼系數，來解釋收入不均的情況。

若要準確反映收入分配的情況，我們應考慮政府徵稅和社會福利所帶來的影響。因此，我們可以利用按除稅後住戶收入<sup>2</sup>和除稅及福利轉移後住戶收入<sup>3</sup>來量度收入不均。

原本住戶收入又稱稅前及福利轉移前住戶收入。

按除稅及福利轉移後住戶收入編製的洛倫茨曲線會更遠離完全均等線。

按除稅及福利轉移後住戶收入計算的基尼系數會較低。

▲ 留意  
如採用累退稅制，收入分配會更加不平均，導致按除稅及福利轉移後住戶收入編製的洛倫茨曲線會更遠離完全均等線。

#### ▲ 提提你 Watch Out

如採用累退稅制，收入分配會更加不平均，導致按除稅及福利轉移後住戶收入編製的洛倫茨曲線會更遠離完全均等線。

▲ 應試攻略 (Exam Tips) 和提提你 (Watch Out) 點出常犯錯誤和考試失分陷阱

#### 生活實例 8.2 全球智能手機市場

下圖顯示 2023 年全球智能手機市場的市場佔有率：

▲ 生活實例 (Living Case) 參考公開試資料類型及提問方式

#### 生活實例 Living Case 飛機乘客離境稅

在香港，每名年滿 12 歲或以上的乘客，若乘搭飛機離開香港，均須繳交港幣 \$200 的飛機乘客離境稅。稅款會於購買機票時一併收取。

#### 飛機乘客離境稅如何影響平均飛行距離？

一般來說，長途航班的機票價格高於短途航班的機票價格。

短途航班的機票價格 (例如：香港至新加坡)	徵收飛機乘客離境稅前	徵收飛機乘客離境稅後
\$2,000	\$2,000	\$2,200 (= \$2,000 + \$200)
長途航班的相對價格 (以短途航班計算)	4.5 (= $\frac{9,000}{2,000}$ )	4.18 (= $\frac{9,200}{2,200}$ )

徵收飛機乘客離境稅後，長途航班的相對價格會下降。根據需求定律，相對會有更多乘客選擇長途航班。因此，乘客的平均飛行距離會增加。

#### 飛機乘客離境稅如何影響商務與經濟座位的銷售比例？

商務座位的機票價格高於經濟座位的機票價格。

	徵收飛機乘客離境稅前	徵收飛機乘客離境稅後
商務座位的機票價格	\$24,000	\$24,200 (= \$24,000 + \$200)
經濟座位的機票價格	\$4,000	\$4,200 (= \$4,000 + \$200)
商務座位的相對價格 (以經濟座位計算)	6 (= $\frac{24,000}{4,000}$ )	5.76 (= $\frac{24,200}{4,200}$ )

徵收飛機乘客離境稅後，商務座位的相對價格會下降。根據需求定律，相對會有更多乘客選擇購買商務座位。因此，商務座位相對經濟座位的銷售比例會上升。

▲ 巧用自問自答方式，模擬考試可能面對的情境

## 引導思考，建立有系統的答題能力

例題拆解以公開試常見題型設題，逐步引導思考方法，助學生準確答題，為公開試做好準備。

#### 例題拆解 Guided Example

Guided Example 11.2 Effects of changes in both demand and supply

Question: Suppose people in Country X have been afraid to eat Japanese seafood since the release of nuclear wastewater<sup>1</sup> into the sea by Japan. At the same time, fishers are advised to avoid catching fish in the affected areas.

Thinking process:

1. Identify the good to be analysed.	Japanese seafood in Country X
2. Which variable, price or quantity, is the main focus of this question?	Price
3. According to the question, identify the events that would affect the market in 1.	People are afraid of eating Japanese seafood. Avoid catching fish in the affected areas
4. How do these events affect demand or supply?	Decrease in demand Decrease in supply
5. What will be the effects on the variable in 2 by each of the events in 3?	Decrease in price Increase in price

#### Answer Structure

With a supply-demand diagram

- Draw the original demand and supply curves.
- Label the original price.
- Draw the change in demand and supply curves.
- Label the new price.
- Indicate the change in price with an arrow.

When people are afraid of eating Japanese seafood, the demand for it decreases.

When fishers are advised to avoid catching fish in the affected areas, the supply of Japanese seafood decreases.

If the decrease in supply is greater than the decrease in demand, the price of Japanese seafood in Country X increases.

Explain how the first event affects the demand/supply.

Explain how the second event affects the demand/supply.

State the condition that leads to the change stated in the question.

以雙欄呈現建議答案與答案結構，幫助學生掌握答題鋪排。

「解題思路」示範拆解試題的方法，而非只給「標準答案」。

#### 例題拆解 14.2 從量稅 / 從量補貼的變動對總支出的影響

題目: 甲國政府加入國際貿易組織後，宣布取消對進口大豆徵收以圖補助。解釋在其情況下，取消從量稅後消費者對總支出會增加。(7分)

參考: HKDSE 2021, 卷二, 題 10c

▲ 教師用書提供該題的分數與參考試題

## 大量 DSE 模式練習題

每章節末均備有考試模式題目，讓學生在掌握課文內容後，挑戰公開試級別題目，真正做到學以致用。

18. The following table shows the balance sheet of an economy's banking system.

Assets (\$ million)		Liabilities (\$ million)	
Reserves	500	Deposits	2,000
Loans	1,500		

Suppose the public always holds \$1,000 million in cash, and all banks are fully loaned up.

(a) Calculate the monetary base and the money supply in the economy. Show your workings. (2 marks)

Suppose the required reserve ratio is increased by 7 percentage points.

(b) Calculate the new money supply in the economy. Show your workings. (2 marks)

(c) Suppose the central bank wants to offset the effect of increasing the required reserve ratio on money supply by injecting newly printed banknotes into the banking system. Calculate the amount of new banknotes required. (2 marks)

難度較高的題目以 ★ 標示

DATA 某軟件公司要求顧客支付年費後才可使用其軟件。該公司曾經提高年費。下表顯示該公司的業務資料。

年份	年費調整	付費用戶總數 (千)	總收入 (百萬元)
1	+5%	420	245
2	+8%	450	268

陳述 A: 軟件需求屬低彈性，可解釋總收入的變動。  
陳述 B: 軟件的供應屬低彈性。

須按資料作答的題目以 DATA 標示

#### 考試模式題目

1. 某經濟出現以下現象：  
(1) 週期性失業率上升。  
(2) 通脹率為負數。  
(3) 零售業的總銷售額正在減少。  
(4) 實質本地生產總值增長率的預測被調低了。

該經濟處於經濟週期的 \_\_\_\_\_ 階段。

2. 下表顯示香港的綜合消費物價指數。

年份	綜合消費物價指數
2023	105.2

3. 若出現非預期通脹，下列哪類人士會受惠？  
A. 一位持有固定存款的零售商  
B. 一位持有銀行定期存款的人士  
C. 一位以浮動利率償還按揭貸款的借入人  
D. 一位以固定名義工資支薪的僱員

4. 下列顯示香港的綜合消費物價指數。

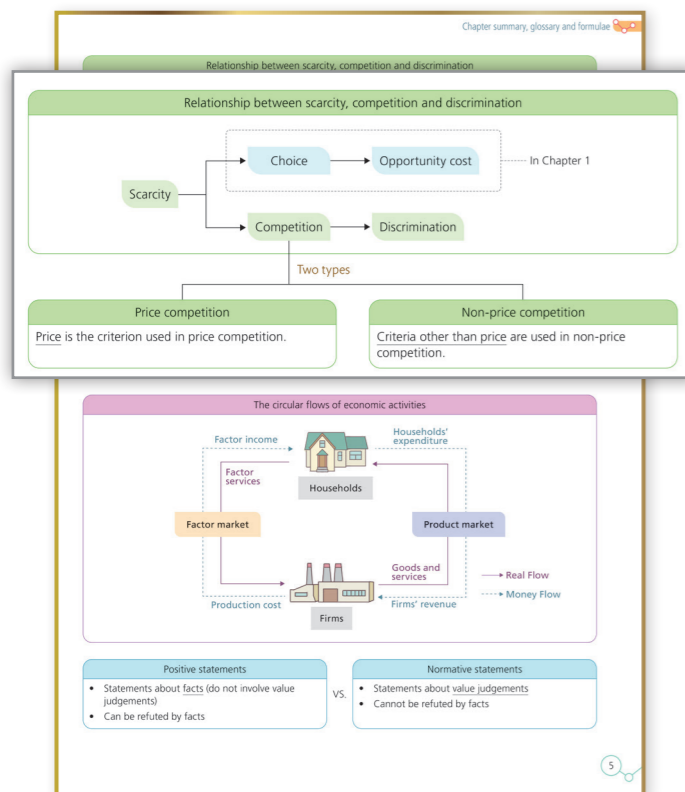
參考: HKDSE 2023, 卷一, 題 38

教師用書提供相關參考試題

# 考試導向的課本設計

## 試前速習筆記 Last Minute Booster

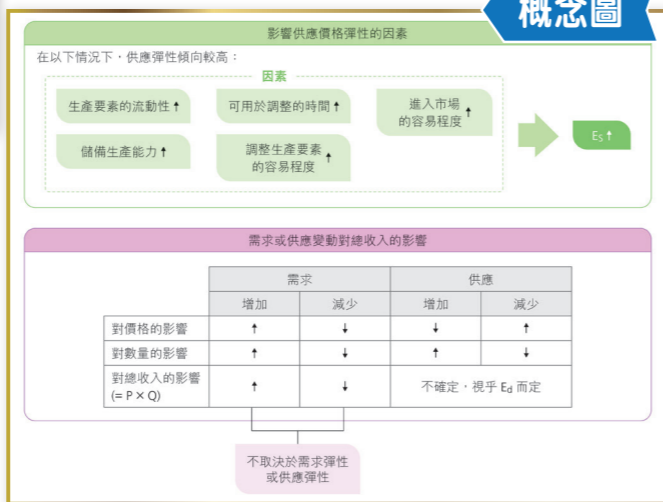
每冊課本均設一本獨立的試前速習筆記，內容包含整冊的概念圖、公式和重要辭彙，供學生試前速習，備戰考試。



▲ 以概念圖統整每章重點，清晰梳理知識脈絡，全面提升溫習成效

### 試前速習

#### 概念圖



▲ 以表列方式歸納重點

#### 辭彙

辭彙	解釋	頁碼
引伸需求 derived demand	見「衍生需求」	11-15
<b>五劃</b>		
市場需求 market demand	某物品的市場需求是指在某段時間內，假設其他因素不變，市場上所有個別買家在不同價格下願意及有能力購買的總數量。	10-7
市場供應 market supply	某物品的市場供應是指在某段時間內，假設其他因素不變，市場上所有個別賣家在不同價格下願意及有能力出售的總數量。	10-12
市場均衡 market equilibrium	市場均衡是指市場處於價格和數量均沒有變動傾向的狀態。在市場價格下，當市場需求量等於市場供應量時，便達至市場均衡。	10-15
市場不均衡 / 市場失衡 market disequilibrium	市場不均衡（或市場失衡）是指在市場價格下，需求量和供應量不相等的情况。	10-17
正常物品 normal good	當消費者的收入增加時，正常物品（或稱優等物品）的需求會增加。	11-15
生產要素的流動性 factor mobility	生產要素的流動性是指生產要素就以下兩方面的意願和容易程度： • 由一個行業轉移至另一個行業。 • 由一個地點轉移至另一個地點。	12-32
劣等物品 inferior good	當消費者的收入增加時，劣等物品的需求會減少。	11-15
<b>七劃</b>		
均衡價格 equilibrium price	在市場均衡下，市場價格稱為均衡價格。	10-15
均衡數量 equilibrium quantity	在市場均衡下，交易數量稱為均衡數量。	10-15
均衡點 equilibrium point	在供需圖中，當市場需求曲線和市場供應曲線相交時，市場便會達至均衡。這一點稱為均衡點。	10-16

## 公式



▲ 整合全冊課本的公式和重要辭彙，讓學生在試前迅速掌握重點

## 加入國家安全元素，帶領學生認識國情

為配合經濟科「國家安全教育課程框架 (2025)」的建議，課本內容加強與經濟安全和金融安全相關的學習元素。

### 國情 360

#### 微觀課題

#### 中國的基尼系數和扶貧措施

中國的基尼系數長居國際警戒線 0.4 以上水平，反映國內貧富懸殊問題嚴重；不過，近年中央政府推出多項扶貧措施，基尼系數開始呈下跌趨勢：

圖 18.30 中國居民人均可支配收入基尼系數  
資料來源：國家統計局

國家的扶貧措施主要針對處於絕對貧窮的居民，即其收入低於維持個人基本生存所需的最低消費支出。為達致全面脫貧，國家為貧困農村建設公路、供電和水利等基礎建設，保障當地兒童能接受義務教育，及將貧困人口納入基本醫療保險等，從而改善居民生活。

圖 18.31 在 2024 年，高達 99% 農村低收入人口納入基本醫療保險，以減輕其經濟負擔。

### China 360

#### 宏觀課題

#### The importance of Hong Kong's Linked Exchange Rate System for national security: Lessons from the Asian Financial Crisis

The Asian Financial Crisis from 1997 to 1998 seriously impacted Asian economies, including Hong Kong. The financial crisis occurred as follows:

It started with a speculative attack on the currencies of Asian countries, leading to the depreciation of the currencies in many Asian countries.

Believing that the linked exchange rate would not hold, international speculators attacked the Linked Exchange Rate System in order to make a huge profit.

The fear of a devaluation of the Hong Kong dollar led to massive capital outflows from Hong Kong, leading to a slump in the stock market.

- In August 1998, the HKMA bought large volumes of Hong Kong dollars to support the linked exchange rate.
- The HKMA and the Hong Kong government also purchased shares in the Hong Kong stock market to restore market confidence.

Hong Kong was eventually able to safeguard the Linked Exchange Rate System successfully and restore the stability of the stock market.

Fig. 32.19 The HKMA played an important role in helping Hong Kong overcome the Asian Financial Crisis.

**Conclusion**

Unlike Hong Kong, the economies of some Asian countries, such as Indonesia, Thailand and Korea, were severely impacted. They had to rely on financial assistance from the International Monetary Fund to stabilise their economies.

The Asian Financial Crisis highlighted the importance of safeguarding economic security through strong financial governance. The HKMA's decisive interventions not only defended the Linked Exchange Rate System but also preserved Hong Kong's financial stability.

▲ 就國安教育課題提供最新個案分析，助學生掌握近年國家發展趨勢

▲ 從真實案例入手，探討維護國家經濟安全的重要性

**例子 區域分工 (不同產業)**

粵港澳大灣區內每個城市都有其專門的產業，例如：

- 香港：國際金融、航運和貿易中心
- 澳門：世界級旅遊休閒中心
- 佛山：全國先進製造業基地

◎ 粵港澳大灣區也可簡稱為大灣區。  
◎ 國情 360 粵港澳大灣區的建設是國家發展戰略的重要組成部分。

國情 360 粵港澳大灣區的建設是國家發展戰略的重要組成部分。

圖 26.23 深港通計劃於 2016 年啟動。

◎ 國情 360 香港作為國際金融中心，在支持國家經濟發展上，擔當重要的角色。

國情 360 香港作為國際金融中心，在支持國家經濟發展上，擔當重要的角色。

▲ 在課文旁欄簡述國家安全對香港和國家經濟發展的重要性



# 全方位資源配合教與學需要

課堂資源樣本



中文版



英文版

本系列配備多元化的線上與線下資源，涵蓋課前、課堂、評估及自學所需，老師可因應教學進度靈活運用各項資源，助學生充分備戰公開試。

<b>課前</b> 課前影片工作紙 教學大綱 教學簡報 練習答案	<b>課堂</b> 課堂一本通 教師版電子課本 課本 PDF + Goodnotes 電子版小測試 課堂對戰 Kahoot! 國家安全教育工作紙 國情 360 工作紙	<b>評估</b> 網頁版題目庫 (附 AI 選題易) 應試錦囊加強版 時事應用題 資料回應題 階段評估 模擬試卷 香港中學文憑試模擬考試 DSE 試題分析 電子版課後 MCQ	<b>鞏固與自學</b> 學生版電子課本 自學工作紙 強化計算訓練 例題拆解影片 考試技巧影片 互動圖表
--	--	---	--

## 學科網站 Subject Website

教師版	學生版
電子課本 課堂一本通 題目庫 教師備課 電子資源 強化計算訓練 持續評估 影片 國家安全教育	電子課本 影片 互動圖表 強化計算訓練 自學工作紙

▲ 老師與學生可透過本學科網站存取各類資源，支援日常教與學需要。



## 課前影片工作紙 Pre-class Video Worksheet

學生透過觀看影片及回答相關問題，為學習新課題做好準備。

同時提供以下格式：

edpuzzle Google FORMS MS Forms Word

立即體驗

無須登入  
自動批改  
提供學生表現報告



## 課堂一本通 Lesson All-in-One

為老師和學生精心設計的一站式課堂筆記，讓教學增添互動元素；筆記提供額外例題，方便老師在課堂上使用。

考試趨勢

需求價格彈性和供應價格彈性

年份	卷一	卷二	
2024	Q13 (67%)	Q10c (3)	尚可
2023	Q13 (72%) Q14 (17%)	Q12aii (3)	令人滿意
2022	Q12 (55%)		
2021	Q18 (26%)		
2020	Q11 (34%)		
2019	Q11 (51%)		
2018		Q5a (3)	尚可
2017	Q15 (84%)		
2016	Q15 (37%)		
2015	Q11 (47%)	Q11c (3)	尚可
2014	Q13 (60%)		
2013	Q11 (45%)	Q9a (5)	優異
2012			

答對百分率      分數      考生表現

▲ 每課均會提供歷年考試趨勢供老師及學生參考

需求價格彈性對總收入的影响 [13 pp. 12-15]

1. 當需求屬於彈性 ( $E_d < -1$ ) 時

2. 當需求屬於低彈性 ( $0 < E_d < -1$ ) 時

設「互動圖表」和「強化計算訓練」QR code，以隨時連結相關資源

▲ 學生可在課堂上動手畫圖，加強學習主動性

額外練習

1 先觀看課本上的「例題拆解」解說影片

2 然後即學即做，動手拆解額外練習

3 最後按答題結構，寫出完整答案

▲ 學生觀看「例題拆解」影片後，就可以實習有關例題的額外練習，即學即做，鞏固所學



# 全方位資源配合教與學需要

課堂資源樣本



中文版



英文版

課前

課堂

評估

鞏固與自學

課前

課堂

評估

鞏固與自學

## 教師版電子課本 Teacher's eBook

一站式課堂管理工具，老師可輕鬆鎖定及控制學生的電子課本書頁，全面掌握其使用情況；同時亦可隨時連結相關資源，提升課堂效率。

設雙視窗功能 (中英對照)

支援Apple Pencil

預設多種快捷工具，包括：

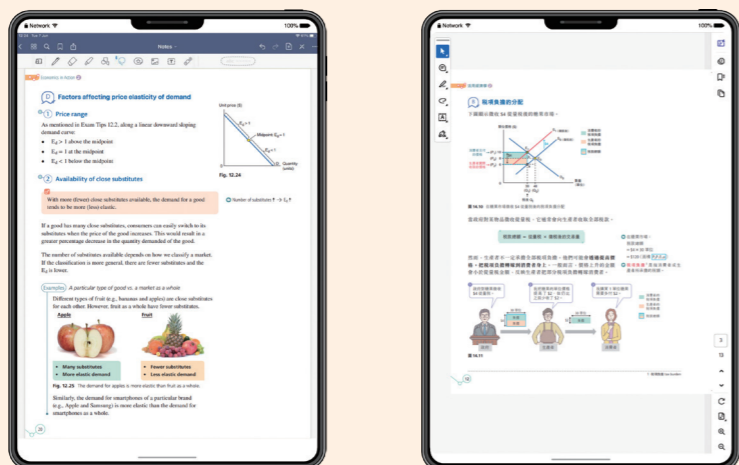
- ✓ 製作筆記
- ✓ 記事/ 插圖功能
- ✓ 開啟網頁

支援 iOS 和 Android 作業系統

立即體驗

## 課本 Textbook PDF Goodnotes 教師專用

備有課本 PDF 檔案供老師上課使用，同時提供 Goodnotes，方便老師整合筆記。



## 課堂對戰 Class Combat Kahoot!

將學生容易混淆的概念設計成 Kahoot! 互動問答遊戲，提升學習趣味。

立即體驗

中文 英文

釐清概念

## 國家安全教育工作紙 持續更新

工作紙 7：中國限制關鍵礦產出口以保障國家安全

圖文	課文	相關概念
1 需求與供應	4 需求和供應的變動	
6 貨幣與貿易	13 貿易障礙	

資料 A：中國限制關鍵礦產出口  
美國政府於 2024 年 12 月 2 日對中國中壘行業推出第三輪管制措施，將 140 家中國企業列入出口黑名單。  
中國商務部隨即宣布，為維護國家安全利益，即日起禁止鎢、鎢、鎢等礦產出口至美國，同時會就出口至美國的石墨實施更嚴格的用户和用途審查。  
資料來源：新聞報導

資料 B：稀土的出口管制、產業升級與國家安全  
中國是全球最大的稀土生產國，而中國的稀土產業正處於轉型期。在部分稀土資源上，中國長期存在過量開採，導致資源浪費和環境壓力。  
早在 2016 年，中國政府已計劃推動稀土產業走向中端、高附加值的發展，實現綠色轉型，加強資源和生態保護。  
2020 年 12 月 1 日，中國正式實施《中華人民共和國出口管制法》，當中包括對稀土資源的保護。  
在 2025 年 4 月 4 日，中國公布對部分稀土實施出口管制，專家分析，管制稀土出口，一方面有助加速稀土產業轉型，防止過度開採，另一方面也能維護國家安全，並作為國際談判籌碼。  
資料來源：新聞報導

Worksheet 6: The Importance of the Linked Exchange Rate System to Hong Kong

Book	Chapter	Related concepts
5 National Income and Price Level	5	Changes in equilibrium output level
6 Money and Trade	8	Functions of the Hong Kong Monetary Authority

Source A: Changes in the exchange rates of selected currencies against the US dollar  
The global foreign exchange market was volatile in 2024, with many currencies experiencing a significant decline in their exchange rates against the US dollar. For example, the Australian dollar fell by 9%, the Korean won by 12%, the Mexican peso by over 20%, and the Japanese yen by more than 9%. Meanwhile, the exchange rate between the Hong Kong dollar and the US dollar remained stable.  
Source: Hong Kong Monetary Authority

Source B: Operation of the Linked Exchange Rate System  
The Linked Exchange Rate System in Hong Kong operates under the currency board system. Under this system,  
• The monetary base is fully backed by US dollar assets, and all changes in the monetary base are fully matched by corresponding changes in US dollar assets at a fixed exchange rate.  
• The Hong Kong Monetary Authority (HKMA) provides Convertibility Undertakings (CU) (兌換保證), under which the HKMA commits to sell Hong Kong dollars upon request by banks at the strong-side CU of HK\$7.75 per US dollar, and to buy Hong Kong dollars upon request by banks at the weak-side CU of HK\$7.85 per US dollar.  
Hong Kong has sizable foreign currency reserves of over US\$420 billion, which is equivalent to about 1.7 times of the monetary base, ensuring the smooth functioning of the Linked Exchange Rate System.  
Source: Hong Kong Monetary Authority

Source C: Difficulty in maintaining the Linked Exchange Rate System  
In order to maintain the Linked Exchange Rate, Hong Kong's foreign currency reserves dropped in 2024 by 15% from their highest level in 2021. Many hedge funds (對沖基金) believed that the Linked Exchange Rate System is coming to an end and claimed that they would attack the Hong Kong dollar.  
Source: Summary of news report

## 國情360工作紙

《活用經濟學》  
國情 360 工作紙

第 3 章：香港在國家政策下的經濟轉型  
為配合國家發展策略，香港正積極就以下四個新興產業進行經濟轉型：

國際航空樞紐  
• 將機場及周邊地帶發展為具備購物、餐飲、酒店和娛樂設施，辦公大樓的「機場城市」  
• 三跑道系統已於 2024 年啟用，提升了機場的客運承載能力

區域知識經濟中心  
• 政府正積極和人工智能等新興法律服務進行合作，以確保制度與時並進，保障新科技發展。  
• 於 2019 年推出優待的專利申請制度，供申請法律專利之用

中外文化藝術交流中心  
• 資助香港藝團及藝術家到內地和海外舉辦文化藝術活動。  
• 積極舉辦藝術博覽會、展覽和流行文化盛事。  
• 興建多項世界級文化藝術設施

討論題  
1. 查閱最新的《施政報告》，選取有關香港發展新興產業的政策，並簡單解釋該政策如何推動本地進行經濟轉型。  
2. 根據上述資料並就你對經濟學的知識，說明香港發展該四個新興產業會為本地經濟帶來甚麼正面影響。

▲ 就國安教育課題提供最新個案

▲ 配合課本的相關環節，引導學生反思和主動關注國家發展



# 全方位資源配合教與學需要

評估資源樣本



中文版



英文版

課前

課堂

評估

鞏固與自學

課前

課堂

評估

鞏固與自學

## 網頁版題目庫 Online Question Bank

由考試專家全面重整題目庫題目，更貼近 DSE 要求，分類更清晰。

3個步驟輕鬆擬卷

題目庫全面革新

- 由考試專家重整題目庫內容
- 題型全面貼近 DSE
- 題量突破 5,000+ 題
- 標示參考的公開試題
- 選擇題附題解

無須下載和安裝



示範影片



立即體驗

可篩選未曾使用的題目

1 題目搜尋

搜尋

3 匯出試卷

## AI 選題易 AI Question Picker

AI 選題易

透過 AI 選題易，老師在使用網頁版題目庫時，只需輸入簡單指令，即可按老師要求智能挑選題目，大幅提升擬卷效率。



- 簡易選項配合對話式 AI 操作
- 無需複雜 prompt
- 即時換題與微調內容



示範影片

## 應試錦囊加強版 Exam Kit Plus

按最新考試趨勢精心設計近 400 條題目，全面囊括選擇題和問答題。

II. 考試模式題目

選擇題

1. 下列哪些情況意味着稀少性的存在？

- (1) 某精品店透過清貨大減價，成功將存貨出售。
- (2) 儘管天氣極其炎熱，鑒於環保原因，黃先生選擇在家中不...
- (3) 志達通宵溫習，希望在即將來臨的考試獲得優異成績。

- A. 只有(1)、(2)
- B. 只有(1)、(3)
- C. 只有(2)、(3)
- D. (1)、(2)及(3)

參考：HKDSE 2024，卷一，題 2

▲ 標示參考的 DSE 題號

答案

選擇題

1. D 選項(1)：人們願意支付價格以獲得精品店所銷售的物品。選項(2)：黃先生願意為減少污染付出成本。選項(3)：志達願意為獲得好的考試成績付出成本。
2. C 選項C：為繼續使用自己的汽車，楊先生須要支付\$30,000的維修費（顯性成本）。維修後，他放棄了以\$50,000出售汽車的機會（隱合成本）。
3. B 選項(2)：當人息稅率下調時，他所放棄的選項（即從事法律工作）的價值會增加。因此，進修法律研究的成本會增加。選項(3)：這可以減低他的金錢成本。
4. B 選項B：它只會影響所選擇的選項（空置單位）的價值，而不會影響所放棄選項的價值。
5. C 選項C：凱琳或會因出席演唱會而導致與父母的關係惡化，這是一種

▲ 提供選擇題詳細題解

精心編寫題目 逾400題

## 資料回應題 DRQ

持續更新

參考公開試 DRQ 題型，提供更多元化的資料及題目，進一步強化學生的資料分析技巧。

程度 4：DRQ 模擬試題

層次	課次	相關概念
第 5 層	第 5 課	總需求和總供給的變動
第 12 層	第 12 課	比較靜態分析
第 13 層	第 13 課	短期
第 14 層	第 14 課	貨幣供應和匯率的影響
第 14 層	第 14 課	國際收支平衡表

總分：30 分  
建議時間：45 分鐘

美國總統特許管理製成進口貨品全權進口商，以減少該國的貿易赤字。

資料 A：美國向進口貨品全權進口商徵收 10% 關稅，如果其他國家在該關稅內將該國產貨品加稅，則該國貿易赤字將增加。

資料 B：美國政府已進口汽車、汽車零件、鋼鐵和支付貨值 25% 關稅。

資料來源：《金融時報》、英國廣播公司 (BBC)

▲ 取材自真實案例，提升學生的投入感

## 時事應用題 Current Issue Questions

持續更新

選取熱門時事議題，並以公開試題型呈現，訓練學生運用經濟學概念，分析真實情境。

指定課次

時事應用題

Q20 樓宇地震

編於 3 月 28 日發生 7.7 級強烈地震，至今造成多人傷亡，地震令多幢建築物傾倒、道路、橋樑等基礎設施的損壞情況嚴重。地震也波及樓宇鄰近國家，華國曼谷一棟建設中的高樓倒塌。

問題

1. 多個國際組織向編印災民免費發給食物、飲用水、醫療包等物資。解釋這些物資的價值為何？
  - a. 免費物品。(2 分)
  - b. 共用品。(2 分)
2. 李先生正考慮如何度過假期，其優先次序如下：
  - 第一選項：前往曼谷觀光
  - 第二選項：前往新加坡觀賞演唱會
  - 第三選項：前往東京購物
 解釋地震發生後，李先生前往東京購物的機會成本是否會維持不變。(2 分)
3. 地震破壞曼谷的基礎建設，當地居民對國家的經濟前景變得悲觀。由於悲觀如何出現地價，前往曼谷的旅客也減少了。以圖輔助，解釋地震會如何影響曼谷的長期地產。(2 分)
4. 多國政府和國際民間團體向曼谷捐款。解釋捐款會如何影響曼谷的國際收支平衡中的經常帳差額。(2 分)

▲ 每章均設相關的時事應用題

跨課次

《活用經濟學》時事應用題（樣本）

Q19 香港引入三跑道系統

相關概念	《活用經濟學》
生產軍火的增加	第 1 課第 4 課
商業擁有權的轉讓和租額	第 1 課第 6 課
好成	第 2 課第 11 課
總需求和供應變化的影響	第 4 課第 23 課
影響	

香港國際機場新築成的三跑道系統啟用，預計該系統將促進香港的轉口並吸引更多廉價航空公司。機場管理局機場進行擴建耗資預計，三跑道系統啟用後，機票價格將會下降。

問題

1. 解釋香港機場的這個新生產要素。(2 分)
2. a. 指出機場管理局的商業擁有權轉讓名稱。(1 分)  
b. 舉出一家屬以上商業擁有權轉讓的廠商提供機場服務的例子。(2 分)
3. 以圖輔助，解釋為甚麼三跑道系統啟用後，機票價格會下降。(2 分)
4. 假設其他因素不變，三跑道系統對香港的總需求和長期供應有何影響？對總產出又有何影響？以圖輔助，解釋你的答案。(8 分)

▲ 另設跨課題題目



# 全方位資源配合教與學需要

評估資源樣本



中文版



英文版

課前

課堂

評估

鞏固與自學

課前

課堂

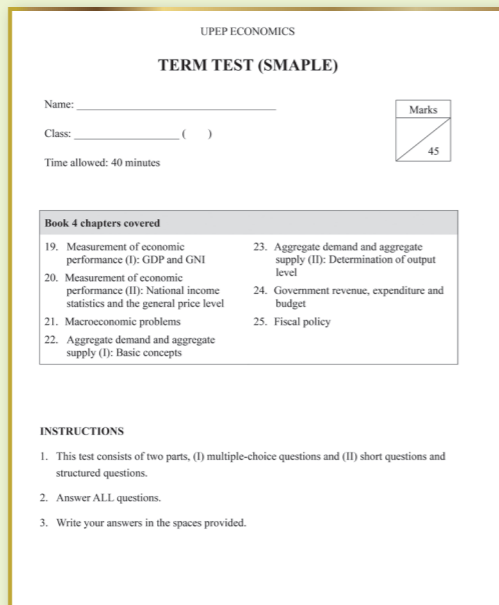
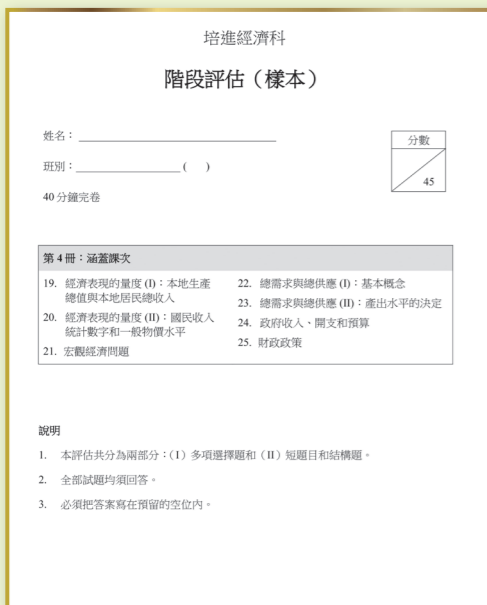
評估

鞏固與自學



## 階段評估 Term Test

按不同學習階段提供多份「階段評估」，方便老師定期評估學生的學習進度與表現。



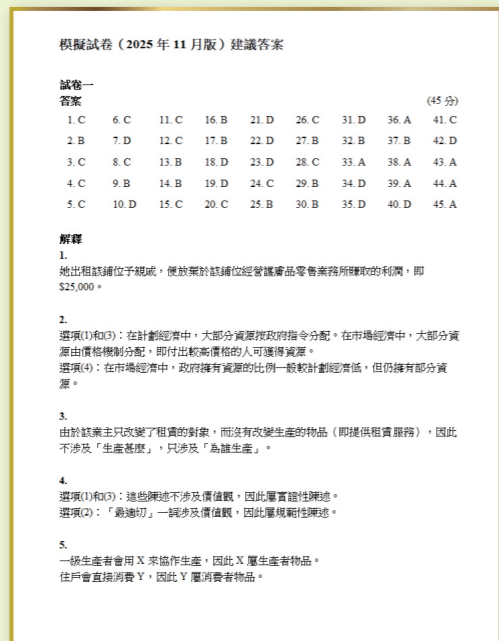
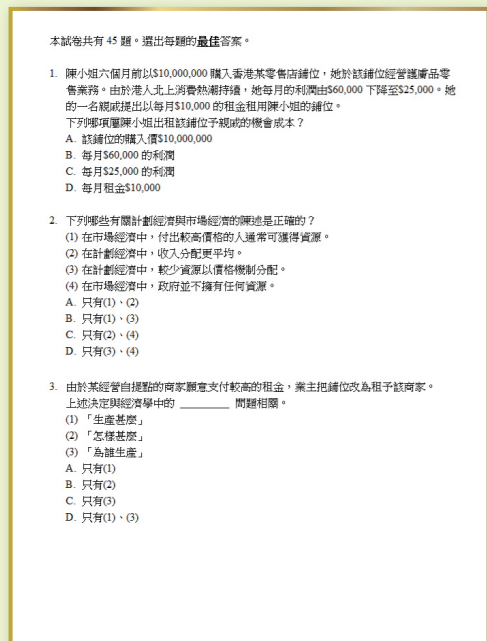
定期評估  
學習進度



## 模擬試卷 Mock Exam Papers

持續更新

定期上載最新模擬試卷，並附完整建議答案及解釋，提升學生的應試能力。



緊貼  
公開試題型



## 香港中學文憑試模擬考試 HKDSE Pre-Mock Exams

定期舉辦

本社每年舉辦的香港中學文憑試模擬考試報考人數屢創新高，評測報告極具參考價值與代表性，深受學界信賴。



▲ 模擬考試為考生提供全面而專業的考試體驗

報考人數  
屢創新高

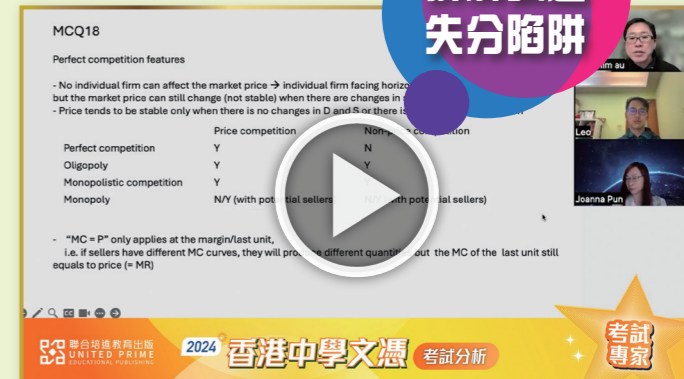
▲ 報考學校可收到其考生的成績及該校整體考生表現報告



## DSE 試題分析 DSE Analysis

持續更新

每年均邀請具豐富教學經驗的老師，剖析文憑試經濟科試題的得分要點，並分享實用教學心得。



拆解試題  
失分陷阱

考試專家



# 全方位資源配合教與學需要

自學資源樣本



中文版



英文版

課前

課堂

評估

鞏固與自學

課前

課堂

評估

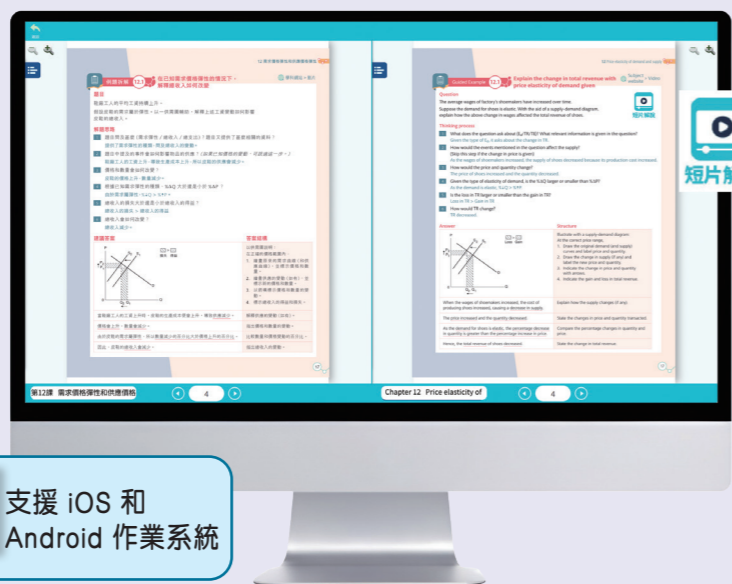
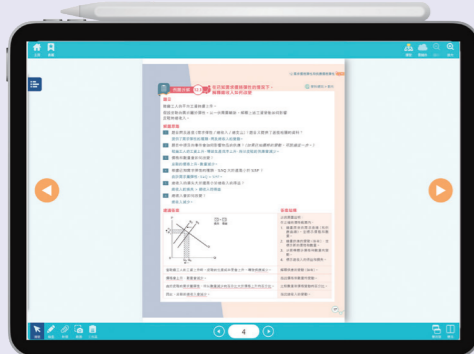
鞏固與自學



## 學生版電子課本 Student's eBook

學生可在電子課本中瀏覽相關電子資源，包括影片和 i-Graphs 等，讓學習變得更方便、更高效。

支援 Apple Pencil



短片解說

支援 iOS 和 Android 作業系統



## 自學工作紙 Self-revision Worksheet

每章均設一份自學工作紙，協助學生鞏固概念，打好基礎。

(活用經濟學 2) 自學工作紙

第 12 章 需求價格彈性和供應價格彈性

1. 寫下計算需求價格彈性 ( $E_d$ ) 的公式。

2. 完成下表。

物品	原有價格	新的價格	% $\Delta P$	原有 $Q_d$	新的 $Q_d$	% $\Delta Q_d$	$E_d$ 的數值	$E_d$ 的種類
A	10	15		50	30			彈性
B	22	18		48	52			
C	9	15		100	60			
D	55	45		10	10			

3. 指出不同種類的價格彈性。

- 需求 ( $E_d < \infty$ )
- 需求 ( $0 < E_d < 1$ )
- 需求 ( $E_d = 1$ )
- 需求 ( $E_d = \infty$ )
- 需求 ( $E_d = 0$ )

Economics in Action 4 Self-revision Worksheet

Chapter 21 Macroeconomic problems

1. Identify the four phases of a business cycle shown by the following diagram.

a. Point A: \_\_\_\_\_ c. Segment AB: \_\_\_\_\_  
b. Point B: \_\_\_\_\_ d. Segment BC: \_\_\_\_\_

2. Circle the correct answers for the features of the four phases of a business cycle.

	Recovery	Peak	Recession	Trough
Real GDP	( $\uparrow/\downarrow$ )	(Highest/Lowest)	( $\uparrow/\downarrow$ )	(Highest/Lowest)
Price level	Inflation	(High/Low)	Moderate inflation or deflation	(High/Low)

鞏固基礎



## 強化計算訓練 Calculation Drilling

附 AI 功能

將計算題的步驟拆分成多個練習，助學生按弱點逐步訓練計算能力。

Calculation Drilling (Unit tax) (sample)

Stage 4: Calculate tax burden

Question (a)

Suppose the government imposes a unit tax of \$3.

Unit price (\$)	2	3	4	5	6	7
Quantity demanded (units)	27	26	25	24	23	22
Quantity supplied (units)	21	23	25	27	29	31

41. Government tax revenue = \$ \_\_\_\_\_ (1 點)

輸入您的答案

42. Consumers' tax burden = \$ \_\_\_\_\_ (1 點)

輸入您的答案

擊破學生學習弱點

Calculation drilling (Unit tax) (sample)

Stage 3: Calculate total expenditure and total revenue after tax

Question (a)

Suppose the government imposes a unit tax of \$2.

Unit price (\$)	2	3	4	5	6	7
Quantity demanded (units)	110	100	90	80	70	60
Quantity supplied (units)	70	80	90	100	110	120

After tax, market price = \$ \_\_\_\_\_ (1 點)

您的答案

After tax, quantity transacted = \_\_\_\_\_ units. (1 點)

您的答案

After tax, consumers' total expenditure = \$ \_\_\_\_\_ (1 點)

您的答案

同時提供以下格式：



## 例題拆解影片 Guided Example Videos

由作者親身解說課本內的例題拆解，帶領學生逐步拆解試題。

Guided Example 12.1

Question

production cost  $\uparrow$  supply

The average wages of factory's shoemakers have increased over time. Suppose the demand for shoes is elastic. With the aid of a supply-demand diagram, explain how the above change in wages affected the price and quantity of shoes.

$S \downarrow \rightarrow P \uparrow$   
 $D$  is elastic  
 $\% \downarrow Q_d > \% \uparrow P$   
Loss Gain



立即體驗



## 考試技巧影片 Exam Skill Videos

由考試專家親自傳授應試心得，點出得分竅門。

When the price decreases, the quantity increases.

If the demand for water is inelastic, a percentage increase in quantity is smaller than the percentage decrease in price.

Hence, people's total expenditure on water will decrease.







立即體驗






# 全方位資源配合教與學需要




## 課前

- ✓ 課前影片工作紙 Pre-class Video Worksheet  
 Word  edpuzzle  Google FORMS  MS Forms
- ✓ 教學大綱 Teaching Plan
- ✓ 教學簡報 Teaching PPT
- ✓ 練習答案 Answers to Exercises




## 課堂

- ✓ 課堂一本通 Lesson All-in-One
- ✓ 教師版電子課本 Teacher's eBook
- ✓ 課本 Textbook  PDF  Goodnotes
- ✓ 小測試 Quizzes  Google FORMS  MS Forms
- ✓ 課堂對戰 Class Combat **Kahoot!**
- ✓ 國家安全教育工作紙 NSE Worksheet **持續更新**
- ✓ 國情 360 工作紙 China 360 Worksheet

## 評估

- ✓ 網頁版題目庫 (附 AI 選題易)  AI 選題易  
Online Question Bank (with AI Question Picker)
- ✓ 應試錦囊加強版 Exam Kit Plus **應試**
- ✓ 時事應用題 Current Issue Questions **持續更新** **應試**
- ✓ 資料回應題 DRQ **持續更新** **應試**
- ✓ 階段評估 Term Test **應試**
- ✓ 模擬試卷 Mock Exam Papers **持續更新** **應試**
- ✓ 模擬考試 Pre-Mock Exam **應試**
- ✓ DSE 試題分析 DSE Analysis **持續更新** **應試**
- ✓ 課後 MCQ Chapter-end MCQ  Google FORMS  MS Forms

## 鞏固與自學 (學生網站)

- ✓ 學生版電子課本 Student's eBook
- ✓ 自學工作紙 Self-revision Worksheet
- ✓ 強化計算訓練 Calculation Drilling (附 AI 功能)  Word  Google FORMS  MS Forms
- ✓ 例題拆解影片 Guided Example Videos **應試**
- ✓ 考試技巧影片 Exam Skill Videos **應試**
- ✓ 互動圖表 i-Graphs

關於聯合培進教育出版

聯合培進秉持「創新學習，學習創新 (Learn. Innovate.)」的理念，致力編寫優質教科書及教材，涵蓋中、小學及學前教育各個學習領域。公司亦積極推動教育研究與教育科技發展，專注開發與人工智能教育相關的課程支援及 AI 電子教學產品，為學校、教師及學生提供最新、最適切的教學支援。



品牌影片



聯絡我們